

Муниципальное бюджетное общеобразовательное учреждение
«Борисовская основная общеобразовательная школа
Волоконовского района Белгородской области»

<p>«Согласовано» на заседании межШМО предметов естественнонаучного цикла Протокол № <u>5</u> от <u>«25» июля</u> 2014 г. Руководитель МО <i>Михайлова И.И.</i></p>	<p>«Согласовано» Заместитель директора МБОУ «Борисовская ООШ» <i>Спильник Л.А.</i> «21» <u>06</u> 2014 г.</p>	<p>«Утверждаю» Директор МБОУ «Борисовская ООШ» <i>Тарап Г.А.</i> Приказ № <u>93</u> от <u>«29» августа</u> 2014 г. Протокол педагогического совета № <u>1</u> от <u>«29»</u> <u>августа</u> 2014 г.</p>
--	---	---

Рабочая программа

учебного курса

«Физика»

для 7-9 класса

Разработала:

учитель физики

Матерка Светлана Витальевна

2014 год

Пояснительная записка

Рабочая программа по физике составлена для обучающихся 7-9 классов МБОУ

«Борисовская ООШ» на основе следующих нормативных документов:

- ✓ Федеральный компонент государственного стандарта общего образования (приказ МО РФ от 05.03.2004 №1089)
 - ✓ Федеральный БУП для общеобразовательных учреждений РФ (приказ МО РФ от 09.03.2004 №1312)
 - ✓ Учебного плана МБОУ «Борисовская ООШ»
 - ✓ Инструктивно-методического письма:
«О преподавании предмета «Физика» в общеобразовательных учреждениях Белгородской области »
 - ✓ Программы для общеобразовательных учреждений. Физика. Астрономия. 7-11 класс./ сотс. В.А. Коровин, В.А. Орлов.-3-е изд., пересмотр.- М.:Дрофа, 2010.-334с
- Программа конкретизирует содержание предметных тем, предлагает распределение предметных часов по разделам курса, последовательность изучения тем и разделов с учетом межпредметных и внутрипредметных связей, логики учебного процесса, возрастных особенностей учащихся. Определен также перечень демонстраций, лабораторных работ и практических занятий.

Общая характеристика учебного предмета

Физика как наука о наиболее общих законах природы, выступая в качестве учебного предмета в школе, вносит существенный вклад в систему знаний об окружающем мире. Она раскрывает роль науки в экономическом и культурном развитии общества, способствует формированию современного научного мировоззрения. Для решения задач формирования основ научного мировоззрения, развития интеллектуальных способностей и познавательных интересов школьников в процессе изучения физики основное внимание следует уделять не передаче суммы готовых знаний, а знакомству с методами научного познания окружающего мира, постановке проблем, требующих от учащихся самостоятельной деятельности по их разрешению. Подчеркнем, что ознакомление школьников с методами научного познания предполагается проводить при изучении всех разделов курса физики, а не только при изучении специального раздела «Физика и физические методы изучения природы».

Гуманитарное значение физики как составной части общего образования состоит в том, что она вооружает школьника научным методом познания, позволяющим получать объективные знания об окружающем мире.

Знание физических законов необходимо для изучения химии, биологии, физической географии, технологии, ОБЖ.

Курс физики в программе основного общего образования структурируется на основе рассмотрения различных форм движения материи в порядке их усложнения. Физика в основной школе изучается на уровне рассмотрения явления природы, знакомства с основными законами физики и применением этих законов в технике и повседневной жизни.

Изучение физики на ступени основного общего образования направлено на достижение следующих **целей:**

✓ освоение знаний о механических явлениях, величинах, характеризующих эти явления, законах, которым они подчиняются, методах научного познания природы и формирование на этой основе представлений о физической картине мира;

✓ овладение умениями проводить наблюдения природных явлений, описывать и обобщать результаты наблюдений, использовать простые измерительные приборы для изучения физических явлений, представлять результаты наблюдений или измерений с помощью таблиц, графиков и выявлять на этой основе эмпирические закономерности, применять полученные знания для объяснения разнообразных природных явлений и процессов, принципов действия важнейших технических устройств, для решения физических задач;

✓ развитие познавательных интересов, интеллектуальных и творческих способностей, самостоятельности в приобретении новых знаний, при решении физических задач и выполнении экспериментальных исследований с использованием информационных технологий;

✓ воспитание убежденности в возможности познания законов природы, в необходимости разумного использования достижений науки и технологий для дальнейшего развития человеческого общества, уважения к творцам науки и техники, отношения к физике как к элементу общечеловеческой культуры;

✓ использование полученных знаний и умений для решения практических задач повседневной жизни, обеспечения безопасности своей жизни, рационального использования и охраны окружающей среды.

Выработка компетенций:

общеобразовательных:

- умения самостоятельно и мотивированно организовывать свою познавательную деятельность (от постановки цели до получения и оценки результата);

- умения использовать элементы причинно-следственного анализа, определять сущностные характеристики изучаемого объекта, обосновывать суждения, давать определения, пытаться приводить доказательства;

- умения оценивать и корректировать свое поведение в окружающей среде, выполнять экологические требования в практической деятельности и повседневной жизни.

предметно-ориентированных:

- понимать роль науки, усиление взаимного влияния науки и техники, осознавать взаимодействие человека с окружающей средой, возможности и способы охраны природы;

- развивать познавательные интересы и интеллектуальные способности учащихся в процессе самостоятельного приобретения физических знаний с использованием различных источников информации;

- воспитывать убежденность в позитивной роли физики в жизни общества, понимание перспектив развития энергетики, транспорта, средств связи и др.;

- овладевать умениями безопасного использования и применения полученных знаний в быту при решении практических задач в повседневной жизни, предупреждения явлений, наносящих вред здоровью человека и окружающей среде.

Данная программа используется для УМК Пёрышкина А. В., Гутник Е. М., утвержденного Федеральным перечнем учебников.

УМК

Пёрышкин А.В. Физика. 7 класс: Учебник для общеобразовательных учреждений. - 2-е изд. - Дрофа, 2008.

Пёрышкин А.В. Физика. 8 класс: Учебник для общеобразовательных учреждений. - 2-е изд. - Дрофа, 2008.

Пёрышкин А.В., Гутник Е.М. Физика. 9 класс: Учебник для общеобразовательных учреждений. - изд. - М.: Дрофа, 2008.

Методические пособия

Сборник задач по физике. 7-9 кл. / Составитель В. И. Лукашик. - 7-е изд. - М.: Просвещение, 3.

Сборник задач по физике. 7-9 кл. / Сост, А.В. Пёрышкин, Н.В. Филонович. - М.: Экзамен, 2008.

Для изучения курса рекомендуется классно-урочная система с использованием различных технологий, форм, методов обучения. Программа направлена на реализацию личностно-ориентированного, деятельностного, проблемно-поискового подходов; освоение учащимися интеллектуальной и практической деятельности. Учитывая неоднородность класса, индивидуальные особенности и состояние здоровья детей, учитель, организуя дифференцированную работу учащихся на уроке физики, может использовать уровневый подход при отборе содержания учебного материала.

Формы текущего контроля: контрольные работы, лабораторные работы, самостоятельные работы, физические диктанты, индивидуальные задания, тесты, устные опросы.

Для организации коллективных и индивидуальных наблюдений физических явлений и процессов, измерения физических величин и установления законов, подтверждения теоретических выводов необходимы систематическая постановка демонстрационных опытов учителем, выполнение лабораторных работ учащимися. Рабочая программа предусматривает выполнение практической части курса: лабораторные и контрольные работы.

Контрольные работы: в 7 классе-4; в 8 классе - 8; в 9 классе - 4.

Лабораторные и практические работы: в 7 классе - 14; в 8 классе - 14; в 9 классе - 9.

Рабочая программа конкретизирует содержание предметных тем образовательного стандарта, дает распределение учебных часов по разделам курса,

последовательность изучения разделов физики с учетом межпредметных и внутрипредметных связей, логики учебного процесса, возрастных особенностей учащихся, определяет минимальный набор демонстрационных опытов, лабораторных работ, календарно-тематическое планирование курса.

Количество учебных часов, на которые рассчитана программа:

в 7 классе - 70 часов (по 2 часа в неделю);

в 8 классе - 70 часов (по 2 часа в неделю);

в 9 классе - 68 часов (по 2 часа в неделю).

ТРЕБОВАНИЯ К УРОВНЮ ПОДГОТОВКИ ВЫПУСКНИКОВ

***В результате изучения физики ученик должен
знать/понимать***

- ***смысл понятий:*** физическое явление, физический закон, вещество, взаимодействие, электрическое поле, магнитное поле, волна, атом, атомное ядро, ионизирующие излучения;
- ***смысл физических величин:*** путь, скорость, ускорение, масса, плотность, сила, давление, импульс, работа, мощность, кинетическая энергия, потенциальная энергия, коэффициент полезного действия, внутренняя энергия, температура, количество теплоты, удельная теплоемкость, влажность воздуха, электрический заряд, сила электрического тока, электрическое напряжение, электрическое сопротивление, работа и мощность электрического тока, фокусное расстояние линзы;
- ***смысл физических законов:*** Паскаля, Архимеда, Ньютона, всемирного тяготения, сохранения импульса и механической энергии, сохранения энергии в тепловых процессах, сохранения электрического заряда, Ома для участка электрической цепи, Джоуля-Ленца, прямолинейного распространения света, отражения света.

уметь

- ***описывать и объяснять физические явления:*** равномерное прямолинейное движение, равноускоренное прямолинейное движение, передачу давления жидкостями и газами, плавание тел, механические колебания и волны, диффузию, теплопроводность, конвекцию, излучение, испарение, конденсацию, кипение, плавление, кристаллизацию, электризацию тел, взаимодействие электрических зарядов, взаимодействие магнитов, действие магнитного поля на проводник с током, тепловое действие тока, электромагнитную индукцию, отражение, преломление и дисперсию света;
- ***использовать физические приборы и измерительные инструменты для измерения физических величин:*** расстояния, промежутка времени, массы, силы, давления, температуры, влажности воздуха, силы тока, напряжения, электрического сопротивления, работы и мощности электрического тока;
- ***представлять результаты измерений с помощью таблиц, графиков и выявлять на этой основе эмпирические зависимости:*** пути от времени, силы упругости от удлинения пружины, силы трения от силы нормального давления, периода колебаний маятника от длины нити, периода колебаний груза на пружине от массы груза и от жесткости пружины, температуры остывающего тела от времени, силы тока от напряжения на участке цепи, угла отражения от угла падения света, угла преломления от угла падения света;

- **выражать результаты измерений и расчетов в единицах Международной системы;**
- **приводить примеры практического использования физических знаний** о механических, тепловых, электромагнитных и квантовых явлениях;
- **решать задачи на применение изученных физических законов;**
- **осуществлять самостоятельный поиск информации** естественнонаучного содержания с использованием различных источников (учебных текстов, справочных и научно-популярных изданий, компьютерных баз данных, ресурсов Интернета), ее обработку и представление в разных формах (словесно, с помощью графиков, математических символов, рисунков и структурных схем);
- **использовать приобретенные знания и умения в практической деятельности и повседневной жизни** для:
 - обеспечения безопасности в процессе использования транспортных средств, электробытовых приборов, электронной техники;
 - контроля за исправностью электропроводки, водопровода, сантехники и газовых приборов в квартире;
 - рационального применения простых механизмов;
 - оценки безопасности радиационного фона.

СОДЕРЖАНИЕ ПРОГРАММЫ

7 КЛАСС

Физика и физические методы изучения природы. (5 ч)

Физика – наука о природе. Наблюдение и описание физических явлений. Физические приборы. Физические величины и их измерение. Погрешности измерений. Международная система единиц. Физика и техника. Физика и развитие представлений о материальном мире.

Демонстрации. Примеры механических, тепловых, электрических, магнитных и световых явлений. Физические приборы.

Лабораторные работы и опыты. Измерение физических величин с учетом абсолютной погрешности. Измерение длины. Измерение температуры.

Первоначальные сведения о строении вещества. (6 ч)

Строение вещества. Диффузия. Взаимодействие частиц вещества. Модели строения газов, жидкостей и твердых тел и объяснение свойств вещества на основе этих моделей.

Демонстрации. Диффузия в газах и жидкостях. Сохранение объема жидкости при изменении формы сосуда. Сцепление свинцовых цилиндров.

Лабораторная работа. Измерение размеров малых тел.

Взаимодействие тел. (20 ч)

Механическое движение. Относительность механического движения. Траектория. Путь. Прямолинейное равномерное движение. Скорость равномерного прямолинейного движения. Неравномерное движение. Явление инерции. Масса тела. Измерение массы тела с помощью весов. Плотность вещества. Методы измерения массы и плотности. Взаимодействие тел. Сила. Правило сложения сил, действующих по одной прямой. Сила упругости. Закон Гука. Методы измерения силы. Динамометр. Графическое изображение силы. Явление тяготения. Сила тяжести. Связь между силой тяжести и

массой. Вес тела. Сила трения. Трение скольжения, качения, покоя. Подшипники. Центр тяжести тела.

Демонстрации. Равномерное прямолинейное движение. Относительность движения. Явление инерции. Взаимодействие тел. Сложение сил. Сила трения.

Лабораторные работы. Изучение зависимости пути от времени при прямолинейном равномерном движении. Измерение скорости. Измерение массы тела на рычажных весах. Измерение объема твердого тела. Измерение плотности твердого тела. Исследование зависимости силы упругости от удлинения пружины. Измерение жесткости пружины. Исследование зависимости силы трения скольжения от силы нормального давления. Определение центра тяжести плоской пластины.

Давление твердых тел, газов, жидкостей. (22 ч)

Давление. Давление твердых тел. Давление газа. Объяснение давления на основе молекулярно-кинетических представлений. Закон Паскаля. Давление в жидкости и газе. Сообщающиеся сосуды. Шлюзы. Гидравлический пресс. Гидравлический тормоз.

Атмосферное давление. Опыт Торричелли. Методы измерения давления. Барометр-анероид. Изменение атмосферного давления с высотой. Манометр. Насос.

Закон Архимеда. Условие плавания тел. Плавание тел. Воздухоплавание.

Демонстрации. Зависимость давления твердого тела на опору от действующей силы и площади опоры. Обнаружение атмосферного давления. Измерение атмосферного давления барометром-анероидом. Закон Паскаля. Гидравлический пресс. Закон Архимеда.

Лабораторные работы. Измерение давления твердого тела на опору. Измерение выталкивающей силы, действующей на погруженное в жидкость тело. Выяснение условий плавания тела в жидкости.

Работа и мощность. Энергия. (13 ч)

Работа силы, действующей по направлению движения тела. Мощность. Кинетическая энергия движущегося тела. Потенциальная энергия тел. Превращение одного вида механической энергии в другой. Методы измерения работы, мощности и энергии.

Простые механизмы. Условия равновесия рычага. Момент силы. Равновесие тела с закрепленной осью вращения. Виды равновесия тел. «Золотое правило» механики. Коэффициент полезного действия.

Демонстрации. Простые механизмы.

Лабораторные работы. Выяснение условия равновесия рычага. Измерение КПД при подъеме тела по наклонной плоскости.

Итоговое повторение (3 ч)

8 КЛАСС

Тепловые явления (13 ч)

Тепловое движение. Термометр. Связь температуры со средней скоростью движения его молекул. Внутренняя энергия. Два способа изменения внутренней энергии: теплопередача и работа. Виды теплопередачи. Количество теплоты. Удельная теплоемкость вещества. Удельная теплота сгорания топлива. Закон сохранения энергии в механических и тепловых процессах.

Демонстрации. Изменение энергии тела при совершении работы. Конвекция в жидкости. Теплопередача путем излучения. Сравнение удельных теплоемкостей различных веществ.

Лабораторные работы. Исследование изменения со временем температуры остывающей воды. Сравнение количеств теплоты при смешивании воды разной температуры. Измерение удельной теплоемкости твердого тела.

Изменение агрегатных состояний вещества. (10 ч)

Агрегатные состояния вещества. Плавление и отвердевание тел. Температура плавления. Удельная теплота плавления. Испарение и конденсация. Насыщенный пар. Относительная влажность воздуха и ее измерение. Психрометр. Кипение. Зависимость температуры кипения от давления. Удельная теплота парообразования. Объяснение изменения агрегатных состояний на основе молекулярно-кинетических представлений. Преобразования энергии в тепловых двигателях. Двигатель внутреннего сгорания. Паровая турбина. Холодильник. КПД теплового двигателя. Экологические проблемы использования тепловых машин.

Демонстрации. Явление испарения. Кипение воды. Зависимость температуры кипения от давления. Плавление и кристаллизация веществ. Измерение влажности воздуха психрометром. Устройство четырехтактного двигателя внутреннего сгорания. Устройство паровой турбины.

Лабораторная работа. Измерение относительной влажности воздуха.

Электрические явления. (27 ч)

Электризация тел. Два рода электрических зарядов. Проводники, непроводники (диэлектрики) и полупроводники. Взаимодействие заряженных тел. Электрическое поле. Закон сохранения электрического заряда. Делимость электрического заряда. Электрон. Строение атомов.

Электрический ток. Гальванические элементы и аккумуляторы. Действия электрического тока. Направление электрического тока. Электрическая цепь. Электрический ток в металлах. Носители электрического тока в полупроводниках, газах и электролитах. Полупроводниковые приборы. Сила тока. Амперметр. Электрическое напряжение. Вольтметр. Электрическое сопротивление. Закон Ома для участка электрической цепи. Удельное электрическое сопротивление. Реостаты. Последовательное и параллельное соединения проводников.

Работа и мощность тока. Количество теплоты, выделяемое проводником с током. Лампа накаливания. Электрические нагревательные приборы. Электрический счетчик. Расчет электроэнергии, потребляемой электроприбором. Короткое замыкание. Плавкие предохранители.

Демонстрации. Электризация тел. Два рода электрических зарядов. Устройство и действие электроскопа. Проводники и изоляторы. Электризация через влияние. Перенос электрического заряда с одного тела на другое. Источники постоянного тока. Составление электрической цепи.

Лабораторные работы. Сборка электрической цепи и измерение силы тока в ее различных участках. Измерение напряжения на различных участках электрической цепи. Регулирование силы тока реостатом. Исследование зависимости силы тока в проводнике от напряжения на его концах при постоянном сопротивлении. Измерение сопротивления. Измерение работы и мощности электрического тока в лампе.

Электромагнитные явления. (7 ч)

Магнитное поле тока. Электромагниты и их применение. Постоянные магниты. Магнитное поле Земли. Магнитные бури. Действие магнитного поля на проводник с током. Электродвигатель. Динамик и микрофон.

Демонстрации. Опыт Эрстеда. Принцип действия микрофона и громкоговорителя.

Лабораторные работы. Сборка электромагнита и испытание его действия. Изучение электрического двигателя постоянного тока (на модели).

Световые явления. (9 ч)

Источники света. Прямолинейное распространение света в однородной среде. Отражение света. Закон отражения. Плоское зеркало. Преломление света. Линза. Фокусное расстояние и оптическая сила линзы. Построение изображений в линзах. Глаз как оптическая система. Дефекты зрения. Оптические приборы.

Демонстрации. Источники света. Прямолинейное распространение света. Закон отражения света. Изображение в плоском зеркале. Преломление света. Ход лучей в собирающей и рассеивающей линзах. Получение изображений с помощью линз. Принцип действия проекционного аппарата. Модель глаза.

Лабораторные работы. Исследование зависимости угла отражения от угла падения света. Исследование зависимости угла преломления от угла падения света. Измерение фокусного расстояния собирающей линзы. Получение изображений.

Итоговое повторение (2 ч)

9 КЛАСС

Законы взаимодействия и движения тел (27 ч)

Материальная точка. Система отсчета. Перемещение. Скорость прямолинейного равномерного движения. Прямолинейное равноускоренное движение. Мгновенная скорость. Ускорение. Графики зависимости скорости и перемещения от времени при прямолинейном равномерном и равноускоренном движениях. Относительность механического движения. Геоцентрическая и гелиоцентрическая системы мира. Инерциальная система отсчета. Первый, второй и третий законы Ньютона. Свободное падение. Невесомость. Закон всемирного тяготения. Искусственные спутники Земли. Импульс. Закон сохранения импульса. Реактивное движение.

Демонстрации. Относительность движения. Равноускоренное движение. Свободное падение тел в трубке Ньютона. Направление скорости при равномерном движении по окружности. Второй закон Ньютона. Третий закон Ньютона. Невесомость. Закон сохранения импульса. Реактивное движение.

Лабораторные работы и опыты. Исследование равноускоренного движения без начальной скорости. Измерение ускорения свободного падения.

Механические колебания и волны. Звук. (11 ч)

Колебательное движение. Пружинный, нитяной, математический маятники. Свободные и вынужденные колебания. Затухающие колебания. Колебательная система. Амплитуда, период, частота колебаний. Превращение энергии при колебательном движении. Резонанс.

Распространение колебаний в упругих средах. Продольные и поперечные волны. Длина волны. Скорость волны. Звуковые волны. Скорость звука. Высота, тембр и громкость звука. Эхо.

Демонстрации. Механические колебания. Механические волны. Звуковые колебания. Условия распространения звука.

Лабораторная работа. Исследование зависимости периода колебаний пружинного маятника от массы груза и жесткости пружины. Исследование зависимости периода и частоты свободных колебаний нитяного маятника от длины нити.

Электромагнитное поле (12 ч)

Магнитное поле. Однородное и неоднородное магнитное поле. направление тока и направление линий его магнитного поля. Правило буравчика. Обнаружение магнитного поля. Правило левой руки. Индукция магнитного поля. Магнитный поток. Опыты Фарадея. Электромагнитная индукция. Направление индукционного тока. Правило Ленца. Явление самоиндукции. Переменный ток. Генератор переменного тока. Преобразования энергии в электрогенераторах. Трансформатор. Передача электрической энергии на расстояние.

Электромагнитное поле. Электромагнитные волны. Скорость электромагнитных волн. Влияние электромагнитных излучений на живые организмы. Конденсатор. Колебательный контур. Получение электромагнитных колебаний. Принципы радиосвязи и телевидения. Электромагнитная природа света. Преломление света. Показатель преломления. Дисперсия света. Типы оптических спектров. Поглощение и испускание света атомами. Происхождение линейчатых спектров.

Демонстрации. Устройство конденсатора. Энергия заряженного конденсатора. Электромагнитные колебания. Свойства электромагнитных волн. Дисперсия света. Получение белого света при сложении света разных цветов.

Лабораторные работы. Изучение явления электромагнитной индукции. Наблюдение сплошного и линейчатого спектров.

Строение атома и атомного ядра. (14 ч)

Радиоактивность как свидетельство сложного строения атомов. Альфа-, бета-, гамма-излучения. Опыты Резерфорда. Ядерная модель атома. Радиоактивные превращения атомных ядер. Сохранение зарядового и массового чисел при ядерных реакциях. Методы наблюдения и регистрации частиц в ядерной физике.

Протонно-нейтронная модель ядра. Физический смысл зарядового и массового чисел. Изотопы. Правила смещения. Энергия связи частиц в ядре. Деление ядер урана. Цепная реакция. Ядерная энергетика. Экологические проблемы использования АЭС. Дозиметрия. Период полураспада. Закон радиоактивного распада. Влияние радиоактивных излучений на живые организмы. Термоядерная реакция. Источники энергии Солнца и звезд.

Демонстрации. Модель опыта Резерфорда. Наблюдение треков в камере Вильсона. Устройство и действие счетчика ионизирующих частиц.

Лабораторные работы. Изучение деления ядра атома урана по фотографии треков. Изучение треков заряженных частиц по готовым фотографиям. Измерение естественного радиационного фона дозиметром.

Итоговое повторение (4 ч)

Учебно-тематический план 7 класс

2 часа в неделю, всего - 70 ч.

№ п\п	Тема	Количество часов	Количество часов для проведения контрольных работ	Количество часов для проведения лабораторных работ
1	Введение	4	-	1
2	Первоначальные сведения о строении вещества	5	-	1
3	Взаимодействие тел	21	2	7
4	Давление твердых тел, жидкостей и газов	23	2	3
5	Работа, мощность, энергия	13	1	2
6	Повторение	4	-	-
7	Всего	70	5	14

Учебно-тематический план 8 класс

2 часа в неделю, всего - 70 ч.,

№ п\п	Тема	Количество часов	Количество часов для проведения контрольных работ	Количество часов для проведения лабораторных работ
1	Тепловые явления	12	1	3
2	Агрегатное состояние вещества	11	2	1
3	Электрические явления	27	3	5
4	Электромагнитные явления	7	1	2
5	Световые явления	9	1	3
6	Повторение	4	-	-
7	Всего	70	8	14

Календарно-тематический план 9 класс
2 часа в неделю, всего - 68ч.,

№ п\п	Тема	Количество часов	Количество часов для проведения контрольных работ	Количество часов для проведения лабораторных работ
1	Законы взаимодействия и движения тел	26	2	2
2	Механические колебания и волны. Звук.	10	1	2
3	Электромагнитное поле	17	-	2
4	Строение атома и атомного ядра	11	1	3
6	Повторение	4		
	Всего	68	4	9

Перечень учебно-методических средств обучения.

Основная и дополнительная литература:

Государственный образовательный стандарт общего образования. // Официальные документы в образовании. – 2004. № 24-25.

Гутник Е. М. Физика. 9 кл.: тематическое и поурочное планирование к учебнику А. В. Перышкина «Физика. 9 класс» / Е. М. Гутник, Е. В. Рыбакова. Под ред. Е. М. Гутник. – М.: Дрофа, 2003. – 96 с. ил.

Закон Российской Федерации «Об образовании» // Образование в документах и комментариях. – М.: АСТ «Астрель» Профиздат. -2005. 64 с.

Кабардин О. Ф., Орлов В. А. Физика. Тесты. 7-9 классы.: Учебн.-метод. пособие. – М.: Дрофа, 2000. – 96 с. ил.

Лукашик В. И. Сборник задач по физике: Учеб пособие для учащихся 7-8 кл. сред. шк.

Лукашик В. И. Физическая олимпиада в 6-7 классах средней школы: Пособие для учащихся.

Минькова Р. Д. Тематическое и поурочное планирование по физике: 9-й Кл.: К учебнику А. В. Перышкина, Е. М. Гутник «Физика. 9 класс»/ Р. Д. Минькова, Е. Н. Панаиоти. – М.: Экзамен, 2003. – 127 с. ил.

Перышкин А. В. Физика. 9 кл.: Учеб. для общеобразоват учеб. заведений. М.: Дрофа, 2008

Программы для общеобразовательных учреждений. Физика. Астрономия. 7-11 кл. / сост. В. А. Коровин, В. А. Орлов. – 2-е изд., стереотип. – М.: Дрофа, 2009. – 334 с.

Сборник нормативных документов. Физика./сост. Э. Д. Днепров, А. Г. Аркадьев. – М.: Дрофа, 2007 . -207 с.

Дидактические карточки-задания М. А. Ушаковой, К. М. Ушакова, дидактические материалы по физике (А. Е. Марон, Е. А. Марон), тесты (Н К. Ханнанов, Т. А. Ханнанова) помогут организовать самостоятельную работу школьников в классе и дома.

Контрольно-измерительные материалы

7 класс

Контрольная работа №1 по теме «Механическое движение. Плотность»

Вариант 1.

1. В течение 30 с поезд двигался со скоростью 72 км/ч. Какой путь он прошел за это время?
2. Определите массу мраморной плиты объемом 2 см^3 .
3. Выразите в метрах расстояния: 50 см, 4 мм, 4 км.

4. Чугунный шар при объеме 125 см^3 имеет массу 800 г. Сплошной или полый этот шар?

Вариант 2

1. Стриж пролетает за 50 с путь 800 м. Какова его скорость? Выразить скорость в км/ч.
2. Найдите массу 5 м^3 золота.
3. Выразите массу в СИ: 0.2 г, 50 мг.
4. В бутылку вмещается 500 мл воды. Вместится ли в эту бутылку 720 г серной кислоты?

Контрольная работа №2 по теме «Взаимодействие тел»

Вариант №1

1. Какая из двух сил: 4 кН или 800 Н больше и во сколько раз?
2. Сила 12 Н растягивает пружину на 7,5 см. Найдите жесткость этой пружины.
3. Определите вес ящика с песком, масса которого 75 кг.
4. Зачем в гололедицу тротуары посыпают песком?

Вариант №2

1. Один мальчик толкает санки сзади с силой 20 Н, а другой тянет их за веревку с силой 15 Н. Изобразите эти силы графически, считая, что они направлены горизонтально и найдите их равнодействующую.
2. Жесткость пружины 40 Н/м. На сколько сантиметров растянется пружина под действием силы 2 Н?
3. Определите силу тяжести, действующую на человека массой 50 кг.
4. Почему ящики, лежащие на движущейся ленте транспортера, не сползают по ленте вниз, а перемещаются вместе с ней вверх?

Контрольная работа №3 по теме

«Давление жидкостей, газов и твердых тел»

Вариант №1

1. Какое давление на пол оказывает кирпич, масса которого 5 кг, а площадь большой грани $0,03 \text{ м}^2$.
2. Из баллона выпустили половину газа. Как изменится в нем давление? Почему?
3. Давление, создаваемое водой на дне озера, равно 4 МПа. Плотность воды 1000 кг/м^3 . Определите глубину озера.
4. В сосуде находится 1 л керосина. Как изменится давление на дно и стенки сосуда, если вместо керосина налить 1 л воды?(Плотность керосина 800 кг/м^3 , воды 1000 кг/м^3) Ответ объясните.

Вариант №2

1. Толщина льда на реке такова, что он выдерживает давление 40 кПа. Пройдет ли по льду трактор массой 5,4 т, если он опирается на гусеницы общей площадью $1,5 \text{ м}^2$?

2. Почему детский воздушный шарик, вынесенный из комнаты зимой, становится менее надутым?
3. В открытой цистерне, наполненной до уровня 4 м, находится жидкость. Её давление на дно цистерны равно 28 кПа. Найдите плотность этой жидкости
4. В широкий таз и в стакан налита вода до одинакового уровня. Что можно сказать о производимом водой давлении на дно сосудов?

Контрольная работа №4 по теме «Работа, мощность, энергия»

Вариант №1

1. Автомобиль проехал равномерно расстояние 5 км. Сила тяги автомобиля 3кН. Какую работу совершила сила тяги автомобиля?
2. Самосвал при перевозке груза развивает мощность 30 кВт. Какая работа совершается им в течение 45 мин?
3. Рычаг находится в равновесии под действием двух сил, первая из которых 4 Н. Определите модуль второй силы, если плечо первой силы 10 см, а второй 15 см.
4. Опишите, какие превращения энергии происходят при выстреле из лука?

Вариант №2

1. Трактор тянет плуг с силой 50 кН равномерно по полю при этом проходит расстояние 4 км. Какую работу совершает трактор?
2. Вентилятор мощностью 400 Вт совершает работу 28 кДж. Какое время он работал?
3. Плечи рычага соответственно равны 4 см и 12 см. На меньшее плечо действует сила 60 Н. Чему равна сила, действующая на большее плечо?
4. Опишите, какие превращения энергии происходят при падении капель дождя на землю?

Итоговая контрольная работа

Вариант №1

1. Почему аромат цветов чувствуется на расстоянии?
2. Найдите силу тяжести, действующую на сокола, массой 500 г.
3. Скорость поезда 72 км/ч. Какой путь пройдет поезд за 15 минут?
4. Найдите архимедову силу, действующую в воде на брусок размером 2х5х10 см, при его погружении наполовину в воду.

Вариант №2

1. Чай остыл. Как изменились его масса, объем, плотность?
2. Мопед «Рига – 16» весит 490 Н. Какова его масса?
3. С какой скоростью двигался автомобиль, если за 12 минут он совершил путь 3,6 км?
4. Токарный станок массой 300 кг опирается на фундамент четырьмя ножками. Определите давление станка на фундамент, если площадь каждой ножки 50 см²

8 класс

Контрольная работа №1 по теме «Тепловые явления»

Вариант 1

1. Какое количество теплоты необходимо для нагревания железной гири массой 500 г от 20 до 30 градусов Цельсия. (Удельная теплоемкость железа 460 Дж/(кг С))
2. Какая масса каменного угля была сожжена в печи, если при этом выделилось 60 МДж теплоты? (Удельная теплота сгорания угля $3 \cdot 10^7$ Дж/кг)
3. В каком платье летом менее жарко: в белом или в темном? Почему?
4. Сколько нужно сжечь каменного угля, чтобы нагреть 100 кг стали от 100 до 200 градусов Цельсия? Потерями тепла пренебречь. (Удельная теплота сгорания угля $3 \cdot 10^7$ Дж/кг, удельная теплоемкость стали 500 Дж/(кг С))

Вариант 2

1. Какое количество теплоты выделится при полном сгорании 100 г спирта? (Удельная теплота сгорания спирта $2,7 \cdot 10^7$ Дж/кг)
2. Какова масса железной детали, если на ее нагревание от 20 до 200 градусов Цельсия пошло 20,7 кДж теплоты? (Удельная теплоемкость железа 460 Дж/(кг С))
3. Почему все пористые строительные материалы (пористый кирпич, пеностекло, пенный бетон и др.) обладают лучшими теплоизоляционными свойствами, чем плотные стройматериалы?
4. Какое количество теплоты необходимо для нагревания 3 л воды в алюминиевой кастрюле массой 300 г от 20 до 100 градусов Цельсия? (Удельная теплоемкость воды 4200 Дж/(кг С), алюминия 920 Дж/(кг С), плотность воды 1000 кг/м³)

Контрольная работа №2 по теме «Изменение агрегатных состояний вещества»

Вариант 1

1. Расплавится ли нафталин, если его бросить в кипящую воду? Ответ обоснуйте. (Температура плавления нафталина 80 градусов Цельсия, температура кипения воды 100 градусов)
2. Найти количество теплоты необходимое для плавления льда массой 500 грамм, взятого при 0 градусов Цельсия. Удельная теплота плавления льда $3,4 \cdot 10^5$ Дж/кг
3. Найти количество теплоты, необходимое для превращения в пар 2 килограммов воды, взятых при 50 градусах Цельсия. Удельная теплоемкость воды 4200 Дж/(кг С), удельная теплота парообразования $2,3 \cdot 10^6$ Дж/кг,
4. За 1,25 часа в двигателе мотороллера сгорело 2,5 кг бензина. Вычислите КПД двигателя, если за это время он совершил $2,3 \cdot 10^7$ Дж полезной работы. Удельная теплота сгорания бензина $4,6 \cdot 10^7$ Дж / кг

Вариант 2.

1. Почему показание влажного термометра психрометра всегда ниже температуры воздуха в комнате?
2. Найти количество теплоты, необходимое для превращения в пар 200 г воды, взятой при температуре кипения. Удельная теплота парообразования воды $2,3 \cdot 10^6$ Дж/кг
3. Найти количество теплоты, необходимое для плавления льда массой 400 грамм, взятого при -20 градусах Цельсия. Удельная теплота плавления льда $3,4 \cdot 10^5$ Дж/кг, удельная теплоемкость льда 2100 Дж/(кг С)
4. Определите полезную работу, совершенную двигателем трактора, если для ее совершения потребовалось 1,5 кг топлива с удельной теплотой сгорания $4,2 \cdot 10^6$ Дж/кг, а КПД двигателя 30 %

Контрольная работа № 3 по теме «Электрические явления»

Вариант 1.

1. Начертите схему электрической цепи, содержащей гальванический элемент, выключатель, электрическую лампочку, амперметр.
2. По спирали электролампы проходит 540 Кл электричества за каждые 5 минут. Чему равна сила тока в лампе?
3. При электросварке в дуге при напряжении 30 В сила тока достигает 150 А. Каково сопротивление дуги?
4. Какой длины нужно взять медный провод сечением $0,1 \text{ мм}^2$, чтобы его сопротивление было равно 1,7 Ом? (Удельное сопротивление меди $0,017 \text{ Ом мм}^2/\text{м}$)
5. По медному проводнику с поперечным сечением $3,5 \text{ мм}^2$ и длиной 14,2 м идет ток силой 2,25 А. Определите напряжение на концах этого проводника. (Удельное сопротивление меди $0,017 \text{ Ом мм}^2/\text{м}$)

Вариант 2.

1. Размеры медного и железного проводов одинаковы. Сравните их сопротивления. (Удельное электрическое сопротивление меди $0,017 \text{ Ом мм}^2/\text{м}$, железа $0,1 \text{ Ом мм}^2/\text{м}$)
2. Напряжение на зажимах лампы 220 В. Какая будет совершена работа при прохождении по данному участку 5 Кл электричества?
3. Определите силу тока в электрочайнике, включенном в сеть с напряжением 220 В, если сопротивление нити накала равно 40 Ом.
4. Сопротивление никелинового проводника длиной 40 см равно 16 Ом. Чему равна площадь поперечного сечения проводника (Удельное сопротивление никелина $0,4 \text{ Ом мм}^2/\text{м}$)
5. Чему равна сила тока в железном проводе длиной 120 см сечением $0,1 \text{ мм}^2$, если напряжение на его концах 36 В. Удельное электрическое сопротивление меди $0,1 \text{ Ом} \cdot \text{мм}^2/\text{м}$

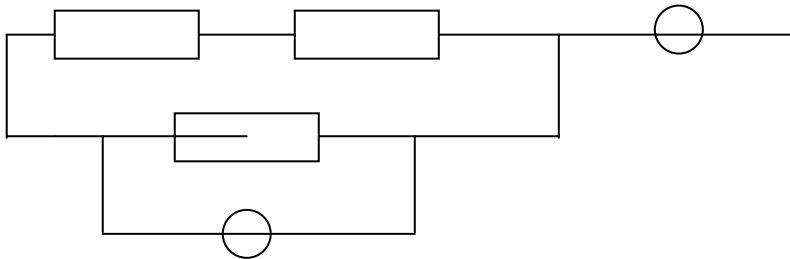
Контрольная работа по теме «Электромагнитные явления»

Вариант 1

- 1 Почему вместо перегоревшего предохранителя нельзя вставлять какой-либо металлический предмет (гвоздь)
- 2 Сила тока в электрической лампе 0,2 А при напряжении 120В. Найдите:
 - а) её сопротивление
 - б) мощность
 - в) работу тока за три минуты
- 3 Какой длины нужно взять медную проволоку сечением $0,5 \text{ мм}^2$, чтобы при напряжении 68В сила тока в ней была 2А?

4 Три сопротивления по 10 Ом каждое включены как показано на рис. Показание амперметра 0,9А, вольтметра 6В. Найдите:

- А) Общее сопротивление
 Б) Силу тока и напряжения на каждом участке.



Вариант 2

1 Почему провода, подводящие ток к электрической плитке, не разогреваются так сильно, как спираль в плитке?

2 Сопротивление лампы 60 Ом, сила тока в ней 3,5А.

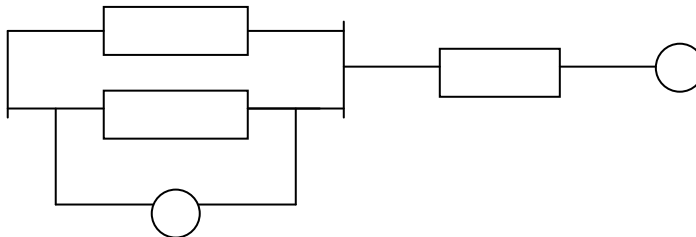
Найдите:

- А) Напряжение,
 Б) Мощность
 В) Работу тока за 2 минуты

3 Какой длины нужно взять железную проволоку сечением 2мм^2 , чтобы её сопротивление было таким же как сопротивление алюминиевой проволоки длиной 1км и сечением 4мм^2 .

4 Три сопротивления по 20 Ом каждое соединены как показано на рис. Показание амперметра 1,5А вольтметра 15В.

Найдите: а) Общее сопротивление б)напряжение и силу тока на каждом участке.



Контрольная работа №5 по Теме«Световые явления»

Вариант 1.

1. По рисунку 1 определите, какая среда 1 или 2 является оптически более плотной.

2. Жучок подполз ближе к плоскому зеркалу на 5 см. На сколько уменьшилось расстояние между ним и его изображением?

3. На рисунке 2 изображено зеркало и падающие на него лучи 1—3. Постройте ход отраженных лучей и обозначьте углы падения и отражения.

4. Постройте и охарактеризуйте изображение предмета в собирающей линзе, если расстояние между линзой и предметом больше двойного фокусного.

5. Фокусное расстояние линзы равно 20 см. На каком расстоянии от линзы пересекутся после преломления лучи, падающие на линзу параллельно главной оптической оси?

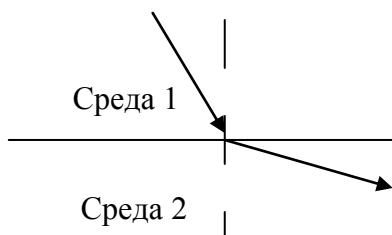


Рис. 1

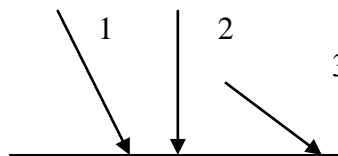


Рис. 2

Вариант 2.

1. На рисунке 1 изображен луч, падающий из воздуха на гладкую поверхность воды. Начертите в тетради ход отраженного луча и примерный ход преломленного луча.

2. На рисунке 2 изображены два параллельных луча света, падающего из стекла в воздух. На каком расстоянии из рисунков а---в правильно изображен примерный ход этих лучей?

3. Где нужно расположить предмет, чтобы увидеть его прямое изображение с помощью собирающей линзы?

4. Предмет находится на двойном фокусном расстоянии от собирающей линзы. Постройте его изображение и охарактеризуйте его.

5. Ученик опытным путем установил, что фокусное расстояние линзы равно 50 см. Какова ее оптическая сила?

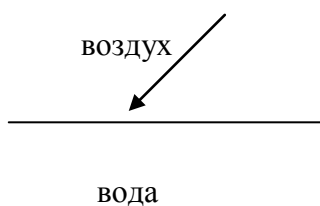


Рис. 1

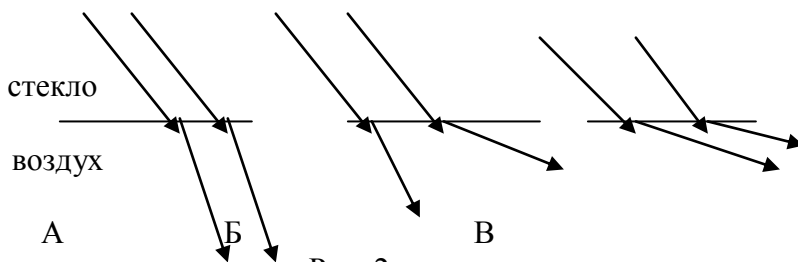


Рис. 2

9 класс

Контрольная работа №1 «Кинематика и динамика»

Контрольная работа №2 «Законы сохранения в механике»

Контрольная работа №3 «Механические колебания и волны. Звук»

Контрольная работа №4 «Элементы квантовой физики»

